

Mestrado em Economia Internacional e Estudos Europeus

Economia Internacional

Exame da época normal

Ano letivo de 2022-2023 – 1.º semestre

03 de janeiro de 2023

Duração: 2,5 horas

Leia com atenção:

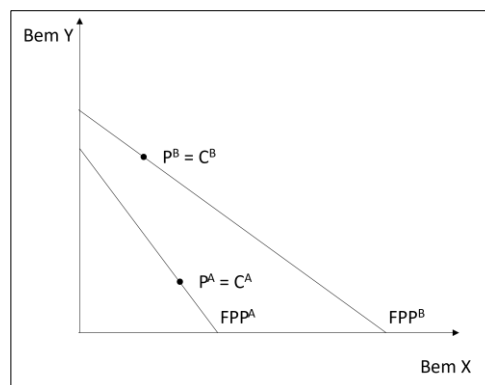
- *Esta prova é composta por duas partes. A PARTE A é constituída por 10 questões de escolha múltipla, valendo cada uma 1 valor, com uma penalização de 0,2 valores por cada resposta errada. A PARTE B é composta por três temas de resposta aberta.*
- *As respostas à PARTE A e à PARTE B devem ser dadas nas folhas de resposta normais, devendo identificar claramente as perguntas.*
- *Para além de português, pode escrever em inglês, italiano, espanhol ou francês. No entanto, tenha em atenção que, em qualquer dos casos, é importante a apresentação de redação e de caligrafia cuidadas.*
- *Não é permitida a consulta de materiais de estudo.*
- *Não poderá sair da sala nos 30 minutos iniciais da prova.*

BOA SORTE!

PARTE A

(Esta PARTE é constituída por 10 perguntas de escolha múltipla. Em cada pergunta, deve escolher a alínea que lhe parece mais correta e identificar claramente essa alínea na sua folha de respostas. Por cada pergunta a que não pretender responder deve indicar o respetivo número na folha de respostas seguido da informação “não respondo”. Tenha em atenção que por cada resposta errada haverá uma penalização de 0,2 pontos na classificação final desta PARTE)

1. Considere a seguinte ilustração gráfica das condições de autarcia das economias A e B:



O gráfico mostra que, no âmbito da _____, a economia A tem vantagem na produção do bem ____ e a economia B na produção do bem ____.

- a) teoria clássica das vantagens absolutas; Y; X
- b) teoria clássica das vantagens comparativas; Y; X
- c) teoria clássica das vantagens absolutas; X; Y
- d) teoria clássica das vantagens comparativas; X; Y

2. No modelo de fatores específicos, a abertura ao comércio faz _____ o preço do bem de exportação e faz _____ o preço do bem de importação, pelo que os detentores do fator produtivo com mobilidade entre indústrias _____ poder de compra.

a) subir; descer; podem perder

b) subir; descer, perdem

c) descer; subir; podem perder

d) descer; subir; perdem

3. No âmbito do modelo de Heckscher-Ohlin, a abertura ao comércio faz com que a indústria do bem de exportação se torne _____ no fator produtivo relativamente escasso _____ acontece na indústria do bem de importação.

a) mais intensiva; ao contrário do que

b) menos intensiva; e o mesmo

c) menos intensiva; ao contrário do que

d) mais intensiva; e o mesmo

4. No curto prazo e na hipótese de o preço dos bens se manter constante, a entrada de migrantes tem como consequência uma _____ dos salários _____ e uma _____ das remunerações _____ dos fatores específicos.

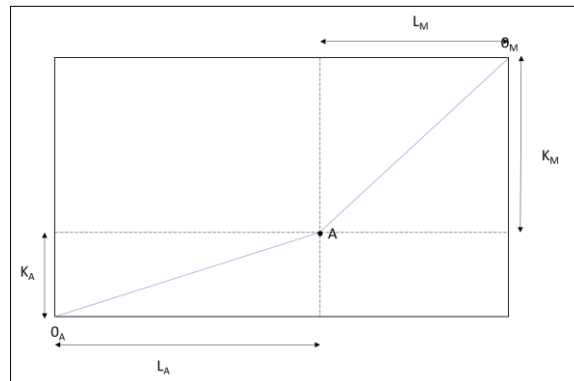
a) descida; nominais; subida; reais

b) subida; nominais e reais; descida; nominais e reais

c) descida; nominais e reais; subida; nominais e reais

d) subida; reais; descida; nominais

5. Considere a ilustração gráfica seguinte, designando L o fator trabalho e K o fator capital:



Trata-se de uma situação em que:

- a) Sendo A e M países, A é relativamente abundante em trabalho e M relativamente abundante em capital.
- b) Sendo A e M bens, A é intensivo em trabalho e M intensivo em capital.
- c) a) e b) estão certas.
- d) Nenhuma das anteriores.

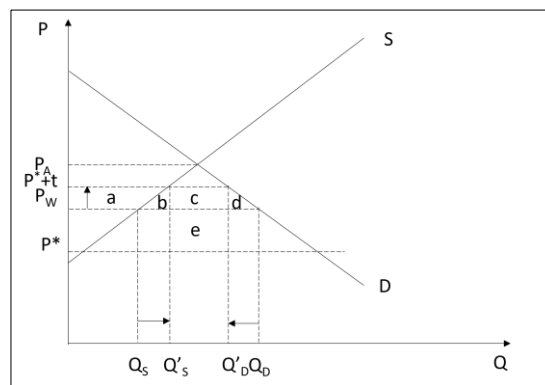
6. Dois países, com tecnologias idênticas, com a mesma dotação de fatores, com mercados idênticos em termos de dimensão e gostos e o mesmo número de empresas,

- a) não têm condições para retirar ganhos do comércio.
- b) podem especializar-se se puder ser definido um padrão de vantagens absolutas.
- c) poderão retirar vantagens se comercializarem entre si produtos idênticos.
- d) os ganhos que um retira do comércio equivalem às perdas suportadas pelo outro (neste caso, o comércio é um jogo de soma nula).

7. As atividades de *offshoring* tendem a beneficiar os trabalhadores _____ qualificados em relação aos _____ qualificados no país de origem _____ no país de destino.

- a) menos; mais; e
- b) menos; mais; mas não
- c) mais, menos; mas não
- d) mais; menos; e

8. Considere a seguinte representação gráfica:



O gráfico ilustra uma situação em que um país _____ aplica um _____ de determinado bem em regime de concorrência _____, sendo o impacto líquido sobre o seu bem-estar ilustrado pela área _____.

- a) pequeno; subsídio às exportações; imperfeita; $b + d - e$
- b) pequeno; subsídio à produção; perfeita; $b + d - e$
- c) grande; direito aduaneiro sobre as importações; perfeita; $e - b - d$
- d) grande; direito aduaneiro sobre as importações; perfeita; $b + d - e$

9. O argumento da indústria nascente pressupõe:

- a) que os benefícios futuros superam os custos presentes.
- b) que o efeito termos de troca supera o *deadweight loss*.
- c) que um direito aduaneiro prejudica menos os consumidores do que uma quota sobre as importações.
- d) Nenhuma das anteriores.

10. Em regime de _____, um subsídio à exportação em indústrias de alta tecnologia poderá gerar um efeito líquido positivo sobre o bem-estar do país que o concede quando a empresa estrangeira _____ uma vantagem de custos sobre a empresa nacional.

- a) duopólio, apresenta
- b) duopólio; não apresenta
- c) monopólio; apresenta
- d) monopólio; não apresenta

PARTE B

(Esta PARTE é constituída por 3 temas de resposta aberta. Tenha em atenção que se esperam respostas baseadas na matéria lecionada, sem prejuízo de outros contributos, de exemplos ilustrativos ou da sua opinião pessoal sobre aspetos concretos.)

1. (4 valores) Efeitos decorrentes da aplicação de uma quota de importação em regime de monopólio doméstico no caso do país pequeno. (Requer ilustração gráfica)

[Slide 7 do capítulo 10 \(Gráfico 2 valores\)](#)

2. (3 valores) Comente a seguinte afirmação: no modelo de fatores específicos, com a abertura ao comércio, haverá sempre quem ganhe e quem perca. (Dispensa ilustração gráfica)

[Slides 24 e 25 do capítulo 3](#)

3. (3 valores) No âmbito do modelo clássico, comente a seguinte afirmação: a única forma que a União Europeia tem de manter salários médios acima dos salários médios da China é manter-se tecnologicamente à frente. (Dispensa ilustração gráfica, mas será valorizada uma ilustração numérica)

[Slides 28 e 29 do capítulo 2 \(ilustração numérica 1 valor\)](#)